

مطالعات

۸



جواب کاربر نگہ ها

 bekhunofficial

- یکی از سه گزینه زیر را انتخاب و جای خالی را با آن پر کنید.
- نوشتن داستان یا خاطره‌ای کوتاه درباره تعاون
- کشیدن نقاشی از صحنه‌ای که تعاون و همدلی انسان‌ها را نشان می‌دهد.
- پیدا کردن و چسباندن یک عکس که صحنه‌ای از همیاری و کمک به هموعان را نشان دهد.




پوریا فانی
bekhun.com



۱- مراحل انتخاب و شروع به کار یک رئیس جمهور را با شماره گذاری مرتب کنید.



۲- با خط، هر یک از اخبار روزنامه‌ها را به یک وزارتخانه مربوط کنید.



پوریا فانی

bekhun.com



همفکری کنید و بگویید در هر یک از موقعیت‌های زیر افراد باید چه روش یا روش‌هایی برای مقابله با خشم انتخاب کنند و به کار

ببرند.

موقعیت (۱)

پدر زهره به او و خواهرش قول داده بود که پنجشنبه آنها را به اتفاق دو نفر از دوستانشان به سینما ببرد ولی آن روز به قول خود عمل نکرد و به خانه تلفن زد و گفت که کاری برایش پیش آمده است. زهره و خواهرش عصبانی شدند و ...
آنها باید چه رفتاری از خود بروز بدهند؟

موقعیت (۲)

حمیده موضوعی را به یکی از دوستانش می‌گوید و از او می‌خواهد به دیگران نگوید، اما چند روز بعد متوجه می‌شود، چند نفر از هم کلاسی‌هایش موضوع را می‌دانند. او عصبانی می‌شود و ...
حمیده چه واکنشی باید داشته باشد؟

موقعیت ۱: بهتر است با درک شرایط موجود و با آرامش کامل علت را از پدر پرس‌وجو کنند و منتظر فرصت مناسب باشند.

موقعیت ۲: ممکن است قبل از او به یکی دیگه هم گفته باشد، پس نباید عصبانی شود بلکه با خونسردی ناراحتی خود را بیان کرده و منتظر واکنش او باشد؛ ضمناً باید در انتخاب دوست هم دقت کند تا دوست رازداری باشد.

موقعیت ۳: با قبول اشتباه خود معذرت خواهی کند و قول دهد در مرتب کردن فایل‌ها به او کمک کند و اشتباه خود را جبران کند.

موقعیت ۴: سعی کند تا از او دور شده و به محض رسیدن به خانه پدر و مادرش را مطلع کند تا با والدین او صحبت کنند.



پوریا فانی

bekhun.com





فرض کنید زمان، چهل سال جلوتر رفته و تحولات در فناوری‌های ارتباطات و اطلاعات ادامه یافته و محصولات جدیدی ابداع و اختراع شده است. تصور خود را درباره فضای چهل سال بعد، اختراع یک محصول جدید و نقش آن در زندگی انسان‌ها به صورت یک متن کوتاه در این قسمت بنویسید و یا یک نقاشی خیالی درباره آن بکشید.

چهل سال بعد :

پاسخ به عهده خودتان می‌باشد.



پوریا فانی

bekhun.com



مطالعات هشتم

صفحه ۱۷۶

کاربرگه



bekhunofficial



با مطالعه متن درس ۹، نشانه‌های عصر جاهلیت را از متن استخراج نمایید و در دایره‌ها قرار دهید.



پوریا فانی

bekhun.com



وقتی امیرالمؤمنین علی (علیه السلام) مالک اشتر یکی از یاران خود را به حکومت مصر منصوب کرد، به او نامه‌ای نوشت. این نامه یکی از مهم‌ترین اسناد سیاسی و حقوقی تاریخ اسلام است. در این نامه، امام وزگی‌های حکومت اسلامی، و روابط متقابل مردم و حاکمان را بیان کرده است.

فرازهایی از این نامه را مرور کنید و بگویید هر فراز مربوط به کدام یک از اصول حکومتی آن حضرت است.

اصول حکومتی امام علی (علیه السلام)	فرازهایی از نامه علی (علیه السلام) به مالک اشتر فرماندار مصر: ای مالک ...
الف) عدالت	۱- از خدا بترس و از هر چه در کتاب خود بدان فرمان داده است، اطاعت کن. (ت)
ب) توجه ویژه به نهیدستان و ضعیفان	۲- بدان که بهترین چیز برای والی (حاکم یک شهر یا منطقه) نیکی کردن در حق مردم و کاستن از رنج و درد آنان است. (... د...)
ب) نظارت بر رفتار کارگزاران	۳- همه کارهای کارگزاران را تحت نظر بگیر و بازرسان مخفی از میان مردمانی که اهل صدق و وفا هستند بر آنان بگمار. (... پ...)
ت) خداترسی و برهیزکاری	۴- گروه ناتوانان و بینوایان به عدالت تو نیازمندتر از دیگرانند و چنان باش که برای یک یک آنان در پیشگاه خداوند، عذری داشته باشی. (... ب...)
ث) توجه به عمران و آبادانی	۵- با مردم و در میان مردم باش که دوری از آنان سبب می‌شود که از امور ملک آگاهی اندکی داشته باشی. (... خ...)
ج) برهیز از ظلم و ستم	۶- اجرای حق را درباره هر که باشی، چه خویشاوند و چه بیگانه، لازم بدار. (الف...)
ج) صلح‌طلبی	۷- اگر دشمنی تو را به صلح فرا خواند، از آن روی نگردان که خشنودی خدای در آن نهفته است. (... ج...)
ح) عطف و مهربانی نسبت به مردم	۸- مهربانی به رعیت (مردم) و دوست داشتن آنها و لطف در حق ایشان را شعار دل خود ساز. (... ح...)
خ) ارتباط نزدیک با مردم	۹- هر که برندگان خدا ستم کند، افزون بر بندگان، خدا نیز دشمن او خواهد بود. (... ج...)
د) نیکی کردن به مردم	۱۰- هر که خراج (مالیات) طلبد و زمین را آباد نسازد، شهرها و مردم را هلاک کرده است. (... ث...)
	نامه ۵۰ نهج البلاغه



پوریا فانی

bekhun.com



با خواندن دقیق متن کتاب و اطلاعاتی که از منابع دیگر دارید، نمودار علت و معلول را کامل کنید و به طور خلاصه، علل سقوط ساسانیان و پیروزی اعراب مسلمان و فتح ایران را بنویسید.
شما می‌توانید ستون‌های دیگری به «علت‌ها» اضافه کنید.



۱- به طور گروهی با مطالعه درس و توجه به نقشه‌ها و نمودار خط زمان، جدول زیر را کامل کنید.

سلجوقیان	غزنویان	سلسله‌ها
طغرل سلجوقی	سلطان محمود غزنوی	بنیان‌گذار
<ul style="list-style-type: none"> ● الپ ارسلان ● ملک شاه سلجوقی 	<ul style="list-style-type: none"> ● الپتگین ● سلطان محمود غزنوی 	شاهان مشهور
از ۴۳۱... تا ۵۹۰ هـ.ق	از ۳۵۰... تا ۵۸۲ هـ.ق	زمان و دوره حکومت
از شمال: دریای کاسپین و سیاه از غرب تا: دریای مدیترانه از شرق تا: ماوراءالنهر از جنوب تا: خلیج فارس و دریای عمان	از شمال تا: ماوراءالنهر و خوارزم از غرب تا: ری و اصفهان از شرق تا: دهلی مرکز هند از جنوب تا: دریای عمان و اقیانوس هند	محدوده و قلمرو حکومت
<ul style="list-style-type: none"> ● ● ● ● ● 	<ul style="list-style-type: none"> ● ● ● ● ● 	رویدادهای مهم جواب این بخش در ادامه قرار دارد.



پوریا فانی

bekhun.com



۲- همفکری کنید و با مقایسه قلمرو و رویدادهای مهم دوران غزنویان و سلجوقیان، بگویید کدام یک از این

سلسله‌ها در تاریخ ایران، اهمیت بیشتری داشته‌اند. چرا؟

غزنویان:

۱. تسلط محمود غزنوی بر خراسان

۲. خارج کردن ری و اصفهان از تسلط آل بویه توسط سلطان محمود

۳. لشکرکشی‌های پیاپی سلطان محمود به هندوستان به عنوان جهاد در راه اسلام

۴. شکست سلطان مسعود غزنوی از طغرل سلجوقی و محدود شدن قلمرو غزنویان به مناطقی از شرق ایران و بخش‌هایی از هندوستان

سلجوقیان:

۱. شکست غزنویان در جنگ دادانقان و به تخت نشستن طغرل در نیشابور و ورود طغرل به بغداد و برانداختن حکومت آل بویه

۲. پیروزی آلپ ارسلان بر امپراتور روم در جنگ ملازگرد

۳. گسترش قلمرو سلجوقیان و افزایش قدرت آن‌ها در دوران سلطنت ملک‌شاه و وزارت خواجه نظام‌الملک

۴. ضعف و انحطاط قدرت سلجوقیان پس از مرگ ملک‌شاه و خواجه نظام‌الملک و نابودی کامل سلجوقیان توسط خوارزمشاهیان

سوال ۲: سلجوقیان - زیرا چه از نظر قدرت و وسعت و ثبات سیاسی و چه از نظر فرهنگی، اقتصادی و اجتماعی و رشد و توسعه علم و دانش سرآمد حکومت‌های ایران بعد از اسلام بوده‌اند.

مطالعات هشتم

صفحه ۱۸۰

کاربرگه



متن‌ها را بخوانید و به پرسش‌ها پاسخ دهید.

(۲)



من در توس به دنیا آمدم. در زمان آلب ارسلان، ملک‌شاه پسر و جانشین او، وزیر بودم. در سی سال وزارت، تلاش زیادی برای گسترش قلمرو و قدرتمندی حکومت سلجوقی انجام دادم.

آلب ارسلان و ملک‌شاه به کمک و راهنمایی‌های من، موفق شدند رقیبان و مخالفان را از سر راه بردارند و به امور کشور نظم بدهند. من برای آبادانی و عمران سرزمین خود و رونق تجارت و کشاورزی کوشش زیادی کردم. در دوران وزارت من، فعالیت‌های اقتصادی رونق یافته و خزانه دولت، وضع مطلوبی داشت.

من همچنین مدارس و بیمارستان‌های زیادی بنا کردم. کتابی به زبان فارسی با عنوان «سیاست‌نامه» نوشتم و در این

(۱)



من در یکی از روستاهای نیشابور به نام گندر، زاده شدم. درس خواندم و در ادب فارسی و عربی، مهارتی حاصل کردم. نخستین سلطان سلجوقی مرا به عنوان کاتب (نویسنده فرمان‌ها و نامه‌ها) برگزید و

چون در این سمت خودی نشان دادم، منصب مهم وزارت را در حالی که جوان بودم، به من سپرد. من نقش مؤثری در گسترش حکومت سلجوقیان به عهده گرفتم و تلاش کردم تا رسم کشورداری را به حاکمان جدید بیاموزم و اوضاع مملکت را سر و سامان دهم. تا مرگ اولین سلطان سلجوقی به مدت بیست سال وزیر بودم. من به عنوان یک ایرانی به زبان مادری خود یعنی زبان پارسی، علاقه‌مند بودم و برایم ناخوشایند بود که دفترهای ایران و فرمان‌های حکومتی و نامه‌ها به زبانی غیر



پوریا فانی

bekhun.com



۱. **شخصیت‌های متن ۱:** عمیدالملک کندی (وزیر طغرل) **شخصیت‌های متن ۲:** خواجه نظام‌الملک

توسی (وزیر آلب ارسلان و ملک‌شاه)

۲. آلب ارسلان - با توجه به نوشته ۱، من به عنوان یک ایرانی به زبان مادری خود یعنی زبان پارسی، علاقه‌مند بودم و برایم ناخوشایند بود که دفترهای ایران و فرمان‌های حکومتی و نامه‌ها به زبانی غیر از فارسی نوشته می‌شد. به همین سبب دستور دادم دفترها و نامه‌ها به خط و زبان فارسی نوشته شود و این رسم برای همیشه در ایران ماندگار شد.

۳. خواجه نظام‌الملک

۴. در این کتاب آیین فرمانروایی و راه و رسم کشورداری را به صورت پند و اندرز بیان شده است.

۵. آموزش راه و رسم کشورداری، سر و سامان دادن به اوضاع کشور

مطالعات هشتم

صفحه ۱۸۱

کاربرگه



با مطالعه دقیق بخش خوارزمشاهیان درس ۱۲ و مطالب درس ۱۴ و اطلاعاتی که از سایر منابع دارید، علت‌های حمله مغول‌ها به کشور ایران را دسته‌بندی کنید و مختصراً بنویسید.

علت‌ها

علت‌های مربوط به مبدأ (مغول‌ها و مغولستان)

- افزایش جمعیت قبایل مغول و ...
- افزایش جمعیت قبایل مغول
- قدرتمندی قبایل متحد پس از اتحاد
- روحیه جنگ‌جویی و خشونت مغولان
- داشتن رهبری با اراده آهنین مثل چنگیز خان
- انگیزه نیرومند مغولان برای فتح سرزمین‌های دیگر پس از موفقیت در فتح چین

علت‌های مربوط به مقصد (ایران و ایرانیان)

- ضعیف بودن حکومت خوارزمشاهیان و تسلط نداشتن بر فرمانروایان محلی
- ضعف حکومت خوارزمشاهیان
- تسلط نداشتن بر فرمانروایان محلی
- دشمنی با خلافت عباسی
- سیاست جنگی نادرست سلطان محمد خوارزمشاه و در همسایه‌شدن با مغول‌ها

معلول

هجوم مغول‌ها به سرزمین ایران و اشغال و تخریب آن



پوریا فانی

bekhun.com





هنرمندان و معماران ایرانی در دوران حکومت‌های ایلخانی و تیموریان آثار ارزشمندی در رشته‌های گوناگون، خلق کردند. به آثار زیر خوب دقت کنید و بگویید هر اثر نشانگر کدام هنر و یا معماری است.

- سفالگری
- شیشه‌گری
- تذهیب (کتاب آرایی)
- فلزکاری
- نگارگری (نقاشی)
- گچ‌بری
- کاشی‌کاری

<p>پارچ شیشه‌ای متعلق به قرن ۸ ق</p>	<p>ظرف سفالی لعابی و نقش‌دار متعلق به قرن ۸ ق</p>	<p>کاسه برنجی متعلق به قرن ۸ ق که نقره‌کوبی و حکاکی شده است.</p>	<p>پشقاب سفالی متعلق به قرن ۹ ق، منقش و دارای لعاب فیروزه‌ای برای</p>

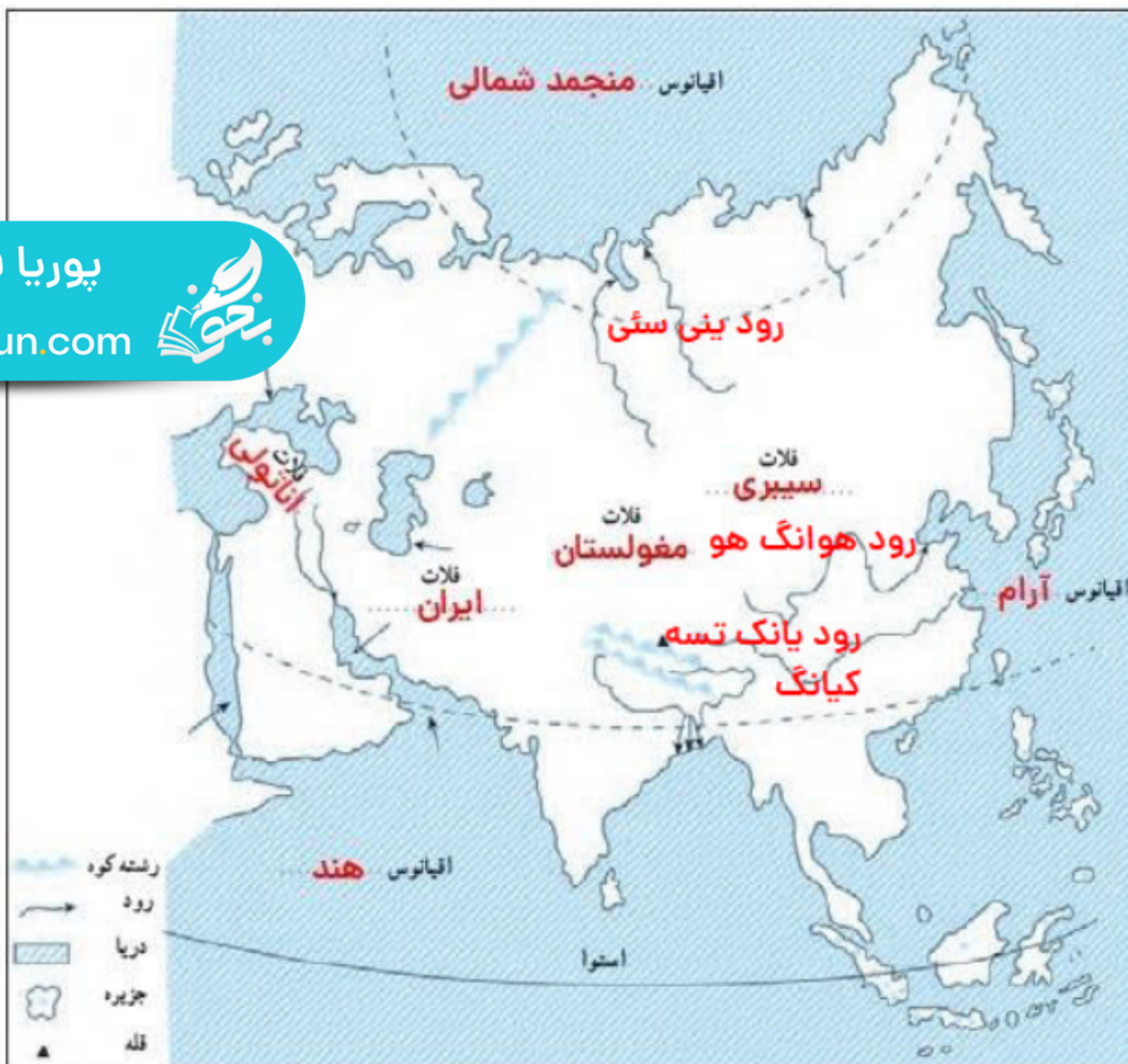
(سفال‌گری و نقاشی) (فلزکاری) (سفال‌گری) (شیشه‌گری)

<p>محراب مسجد جامع بسطام که با گچ تزئین شده است.</p>	<p>سر در اصلی مسجد جامع یزد که در دوره تیموری ساخته و با کاشی تزئین شده است.</p>	<p>صفحه‌ای از شاهنامه باستانی که توسط باستان‌شناسان، شاهزاده هنرمند و هنردوست تیموری به وجود آمد.</p>	<p>صفحه‌ای از نسخه خطی قرآن متعلق به قرن ۹ ق، طلاکوبی شده و با آبرنگ مات، حاشیه‌های آن نقاشی شده است.</p>

(تذهیب، نگارگری) (نگارگری) (کاشی‌کاری) (گچ‌بری)



۱- روی نقشه، نام مکان‌های مورد نظر را بنویسید.



– نام اقیانوس‌های اطراف قاره آسیا

– نام دریاها و خلیج‌ها (→)

– نام رشته کوهی که آسیا را از اروپا جدا می‌کند.

– نام فلات‌های بلند آسیا از مغرب به مشرق

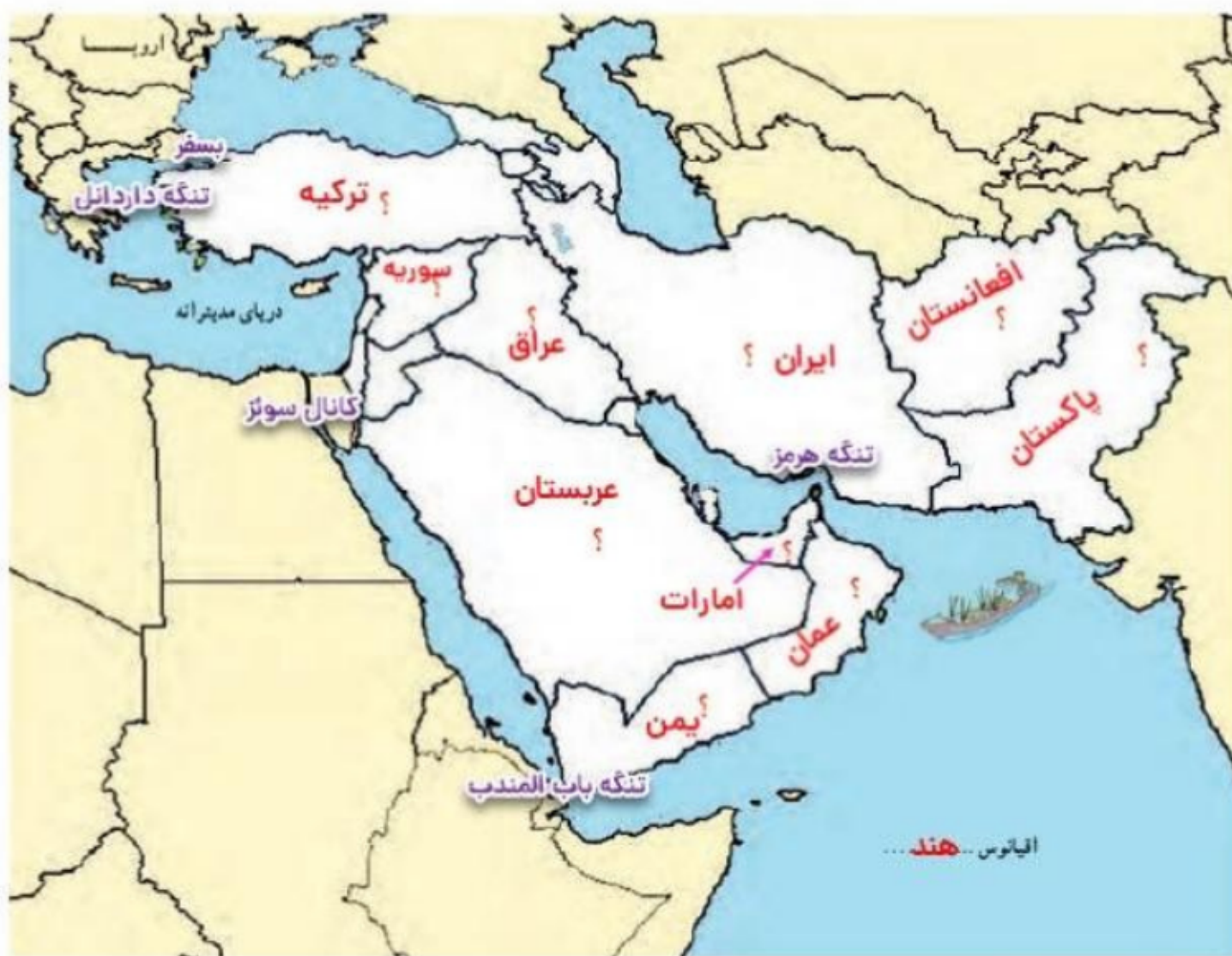
– نام رشته کوه و بلندترین قله آسیا

– نام دو شبه‌جزیره وسیع آسیا

– دلتای بنگال

– رودهای مهم آسیا

پوریا فانی
bekhun.com



پوریا فانی

bekhun.com



روی نقشه نام مکان‌های مورد نظر را بنویسید.

– نام دریاها و اقیانوس مهم منطقه

– نام تنگه‌های بسفر، داردانل، هرمز، باب المندب و کانال سوئز

– نام کشورهای که با علامت ؟ مشخص شده است.

– کشور ایران را با رنگ سبز و بقیه کشورها را با رنگی دیگر نشان دهید.

– اگر یک کشتی بخواهد از دریای عمان به دریای مدیترانه و از آنجا به کشورهای اروپایی برود باید از کدام دریاها و تنگه‌ها عبور

کند؟ روی نقشه ترسیم کنید.

اگر یک کشتی بخواهد از دریای عمان به دریای مدیترانه و از آنجا به کشورهای اروپایی برود باید از کدام دریاها و تنگه‌ها عبور کند؟ روی نقشه ترسیم کنید.

پاسخ: کشتی وارد اقیانوس هند شده و پس از خلیج عدن و تنگه باب‌المندب به دریای سرخ می‌رسد و از کانال سوئز گذشته و به مدیترانه می‌رسد.

کشورهای نفت خیز: ایران، عربستان، عراق، سوریه، عمان، یمن

مطالعات هشتم

صفحه ۱۸۵

کاربرگه



bekhunofficial



سوال ۱ مسئله:

$$\frac{1}{2500000} = \frac{10}{x}$$

$$10 \times 2500000 = 25000000 \div 1000 = 25000$$

کیلومتر

نقشه عمومی
خلیج فارس
مقیاس: ۱:۲۵,۰۰۰,۰۰۰

- ۱- مقیاس عددی نقشه را بخوانید و معنی آن را بنویسید. سپس محاسبه کنید هر سانتی متر روی نقشه معادل چند کیلومتر روی زمین است؟ **هر یک سانتی متر روی نقشه برابر با ۴۵ کیلومتر است روی زمین**
- ۲- در صورتی که یک کشتی از بندر لنگه به ابوظبی برود، مسافران در سمت چپ خود کدام جزیره ها را مشاهده می کنند؟ با توجه به مقیاس نقشه، فاصله این دو بندر چند کیلومتر است؟ محاسبه کنید.
- ۳- اگر فردی از شهر لار در ایران به بندر چابک سفر کند چند کیلومتر طی می کند؟ محاسبه کنید.

سوال ۲ مسئله:

$$\text{مقیاس} = \frac{5}{60 \times 100 \times 1000} = \frac{5}{6000000} = \frac{1}{1200000}$$

مسئله

- ۱- اگر فاصله دو روستا روی نقشه ای ۱۰ سانتی متر باشد، در صورتی که مقیاس نقشه $\frac{1}{250000}$ باشد، فاصله این دو روستا روی زمین، چقدر است؟
- ۲- فاصله شهری تا ساحل دریا، روی زمین ۶۰ کیلومتر و روی نقشه ۵ سانتی متر است. مقیاس این نقشه را بدست آورید.

۲ مقیاس = فاصله دو نقطه روی نقشه / فاصله همان دو نقطه روی زمین

$$\frac{1}{4500000} = \frac{5}{x}$$

$$5 \times 4500000 = 22500000 \quad \text{۲۲۵۰ کیلومتر}$$

۳

$$\frac{1}{4500000} = \frac{2.5}{x}$$

$$2.5 \times 4500000 = 11250000 \quad \text{۱۱۲۵۰ کیلومتر}$$





پوریا فانی

bekhun.com



- ۱- روی نقشه، نام مکان‌های مورد نظر را بنویسید.
- نام اقیانوس‌ها و دریاهای اطراف قاره اروپا
- نام رودهای ولگا، دُن و راین
- نام دو رشته‌کوه مهم اروپا
- نام شبه جزیره اسکاندیناوی و شبه جزیره بالکان
- نام تنگه‌ای که اروپا را از آفریقا جدا می‌کند.
- ۲- نقشه را به دلخواه رنگ‌آمیزی کنید.



پوریا فانی

bekhun.com



- ۱- روی نقشه، نام مکان‌های مورد نظر را بنویسید.
- نام اقیانوس‌ها و دریاهای اطراف قاره آفریقا
- نام رشته‌کوهی که در شمال غربی آفریقا قرار دارد.
- نام دو قله بلند آفریقا
- نام بزرگ‌ترین دریاچه آفریقا
- نام رودهای مهم آفریقا
- نام صحرای بزرگ آفریقا و بیابان کالاهاری
- نام خلیجی در غرب آفریقا
- ۲- نقشه را به دلخواه رنگ‌آمیزی کنید.

اقیانوس منجمد شمالی

تنگه برینگ

رود می سی سی پی

رود میسوری

خلیج مکزیک

مدار رأس السرطان

اقیانوس آرام

کانال پاناما

استوا

اقیانوس آرام جنوبی

مدار رأس الجدی

جنگه آمازون

رود برزیل

رود پارانا

رشته

جنگه پارانا

کوه آند

اقیانوس اطلس

۱- روی نقشه، موارد زیر را بنویسید.

- نام تنگه‌ای که قاره آمریکا را از قاره آسیا جدا می‌کند.

- نام اقیانوس‌ها و خلیج‌ها

- نام رودها و جلگه‌های مهم آمریکای شمالی

- نام رودها و جلگه‌های مهم آمریکای جنوبی

- نام رشته کوه‌های بلند و جوان آمریکای شمالی

- نام رشته کوه‌های بلند و جوان آمریکای جنوبی

- نام توده کم ارتفاع قدیمی آمریکای شمالی

- نام توده کم ارتفاع قدیمی آمریکای جنوبی

- محل شهرهای واشنگتن و نیویورک را روی نقشه بنویسید.

- نام کانال معروفی که دو اقیانوس را به هم می‌پیوندد.

۲- فرض کنید روی نقشه،



پوریا فانی

bekhun.com



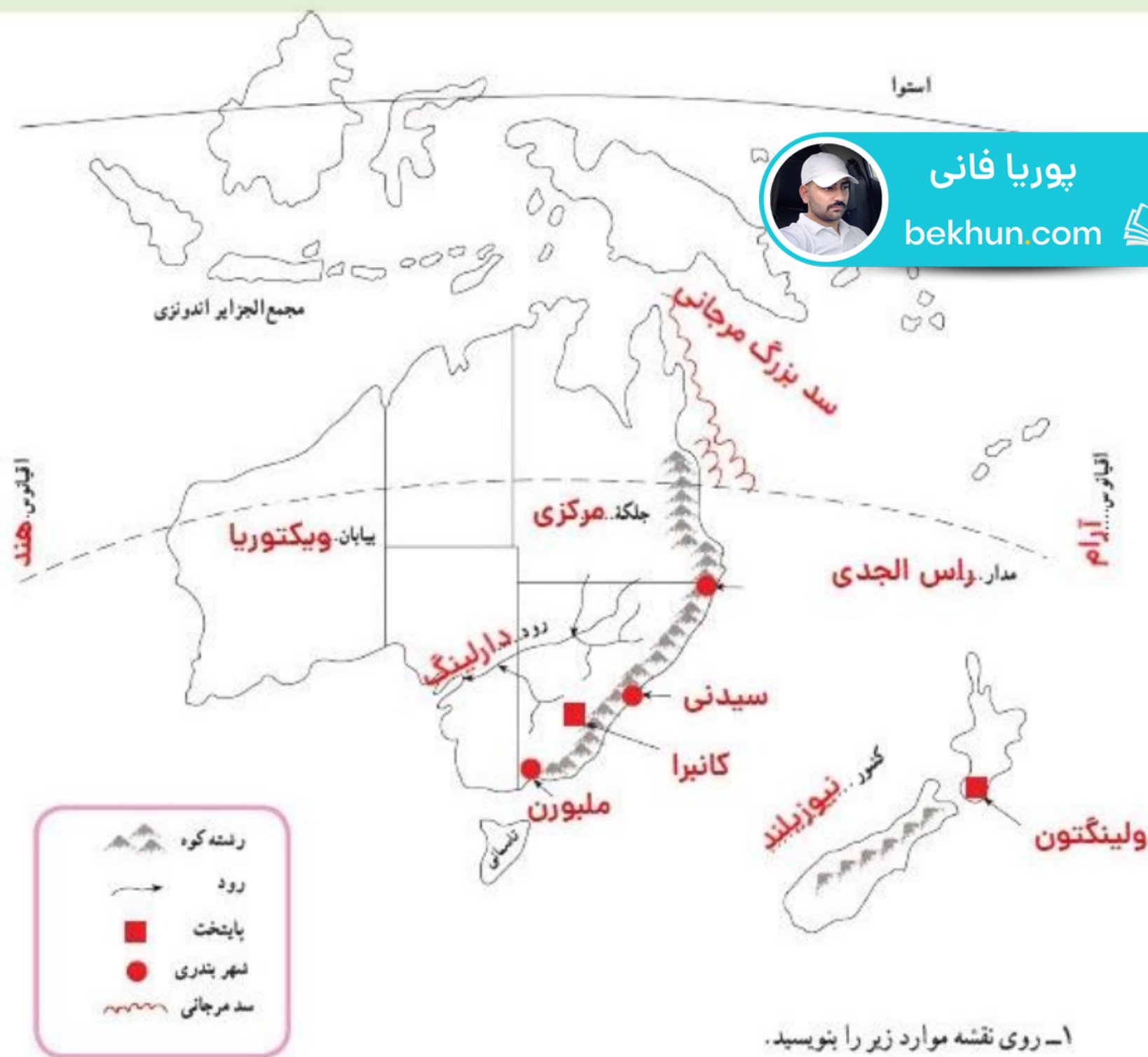
سوال ۲:

فرض کنید روی نقشه، یک کشتی می‌خواهد از یک اقیانوس به اقیانوس دیگر، سفر کند. دو مسیر جداگانه برای کشتی بکشید. سپس بگویید کدام مسیر کوتاه تر است؟ چرا؟

گذشتن از کانال پاناما - زیرا راحت‌ترین روش و نزدیک‌ترین روش جابه‌جا شدن بین دو اقیانوس است.

سوال ۱:

۱. نام تنگه ای که قاره آمریکا را از قاره آسیا جدا می‌کند: تنگه برینگ
۲. نام اقیانوس‌ها و خلیج‌ها: اقیانوس اطلس، اقیانوس آرام، اقیانوس منجمد شمالی، خلیج مکزیک
۳. نام رودها و جلگه‌های مهم آمریکای شمالی: رود می سی سی پی، رود میسوری، جلگه می سی سی پی
۴. نام رودها و جلگه‌های مهم آمریکای جنوبی: رود آمازون، جلگه آمازون، رود پارانا، جلگه پارانا
۵. نام رشته کوه‌های بلند و جوان آمریکای شمالی: رشته کوه راکی
۶. نام رشته کوه‌های بلند و جوان آمریکای جنوبی: رشته کوه آند
۷. نام توده کم ارتفاع قدیمی آمریکای شمالی: توده آپالاش
۸. نام توده کم ارتفاع قدیمی آمریکای جنوبی: توده برزیل
۹. نام کانال معروفی که دو اقیانوس را به هم می‌پیوندد: کانال پاناما



۱- روی نقشه موارد زیر را بنویسید.

۲- نام اقیانوس‌های اطراف استرالیا

نام رودی را که در ایالت ویکتوریا جاری است بنویسید.

سایت بخون
همیشه رایگان



گام به گام



نمونه سوال



جزوه



فیلم آموزشی



مشاوره



برنامه ریزی



www.bekhun.com

کلیک کنید

